

cbsemath.com

A website providing free sample, guess and question papers in all subjects

Also available here latest cbse syllabus

Links to cbse results available

Links to online ncert and cbse books available

Maths, science, hindi, punjabi, science and social science material available

Classes V11, V111, 1X, X, X1 and X11

To contact us log on to cbsemath.com, open contact us page and fill up the form there

SOCIAL SCIENCE

सामाजिक विज्ञान

Time allowed : 3 hours]

निर्धारित समय : 3 घण्टे]

[Maximum Marks : 100

[अधिकतम अंक : 100

General Instructions :

- 1. Answers to questions carrying two marks should not exceed 30 words.*
- 2. Answers to questions carrying four marks should not exceed 60-80 words.*
- 3. Answers to questions carrying six marks should not exceed 100-125 words.*
- 4. Maps should be securely tied in the middle of Answer-Book.*
- 5. Attempt all parts of a question together.*
- 6. Stencils or templates for drawing outline maps may be used wherever necessary.*

सामान्य निर्देश :

1. दो अंकों वाले प्रत्येक प्रश्न का उत्तर 30 शब्दों से अधिक न हो।
2. चार अंकों वाले प्रत्येक प्रश्न का उत्तर 60 से 80 शब्दों से अधिक न हो।
3. छह अंकों वाले प्रत्येक प्रश्न का उत्तर 100 से 125 शब्दों से अधिक न हो।
4. मानचित्रों को उत्तर-पुस्तिका के बीच में मजबूती से बाँधिए।
5. किसी प्रश्न के सभी भागों के उत्तर साथ-साथ दीजिए।
6. रेखा-मानचित्र बनाने के लिए आवश्यकतानुसार स्टेंसिल अथवा सांचे का उपयोग किया जा सकता है।

1. What do the rock-cut caves in Bihar and Maharashtra contain ? Give two examples. 2
बिहार और महाराष्ट्र की चट्टानों को काट कर बनाई गई गुफाओं में क्या पाया गया है ? दो उदाहरण दीजिए।
2. “The wide variety of habitat in the country has given shelter to a rich variety of fauna.” Support the statement with two examples. 2
“देश में विभिन्न प्रकार के प्राकृतिक वासों ने पक्षियों और सरीसृपों और स्तनधारियों के रूप में अनेक प्रकार के जीव-जन्तुओं को आश्रय दिया है।” उक्त कथन का दो उदाहरण देकर समर्थन कीजिए।
3. Mention two types of resources. Give one example of each. 1+1=2
संसाधनों के दो प्रकार बताइए। प्रत्येक का एक उदाहरण दीजिए।
4. What are reserved forests ? What is the percentage of total forest cover under this category ? 1+1=2
आरक्षित वन क्या हैं ? इस वर्ग के अन्तर्गत कुल वन क्षेत्र का कितने प्रतिशत भाग शामिल है ?
5. Mention three major sources of irrigation in India. Which source of irrigation is more popular in the southern states ? 1½+½=2
भारत में सिंचाई के तीन प्रमुख साधन बताइए। दक्षिणी राज्यों में कौन सा सिंचाई का साधन अधिक लोकप्रिय है ?

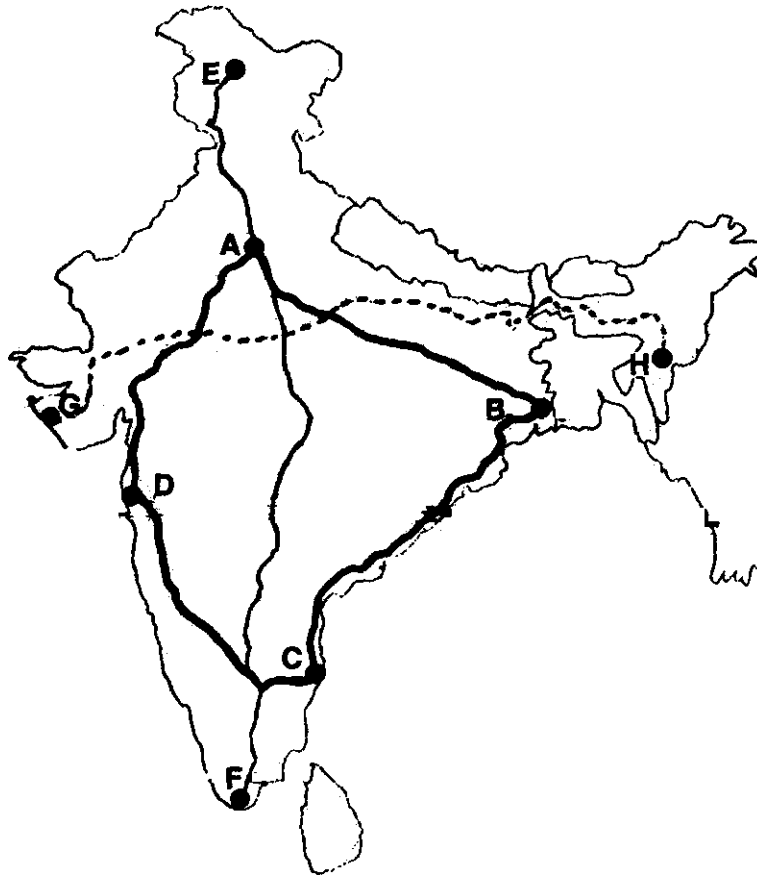
6. Give two points of difference between renewable and non-renewable resources. 2×1=2

नवीकरणीय और अनवीकरणीय साधनों में दो अन्तर बताइए।

7. How does deforestation affect eco-system ? Give two examples. 2

वनोन्मूलन पारिस्थितिक-तंत्र को किस प्रकार प्रभावित करता है ? कोई दो उदाहरण दीजिए।

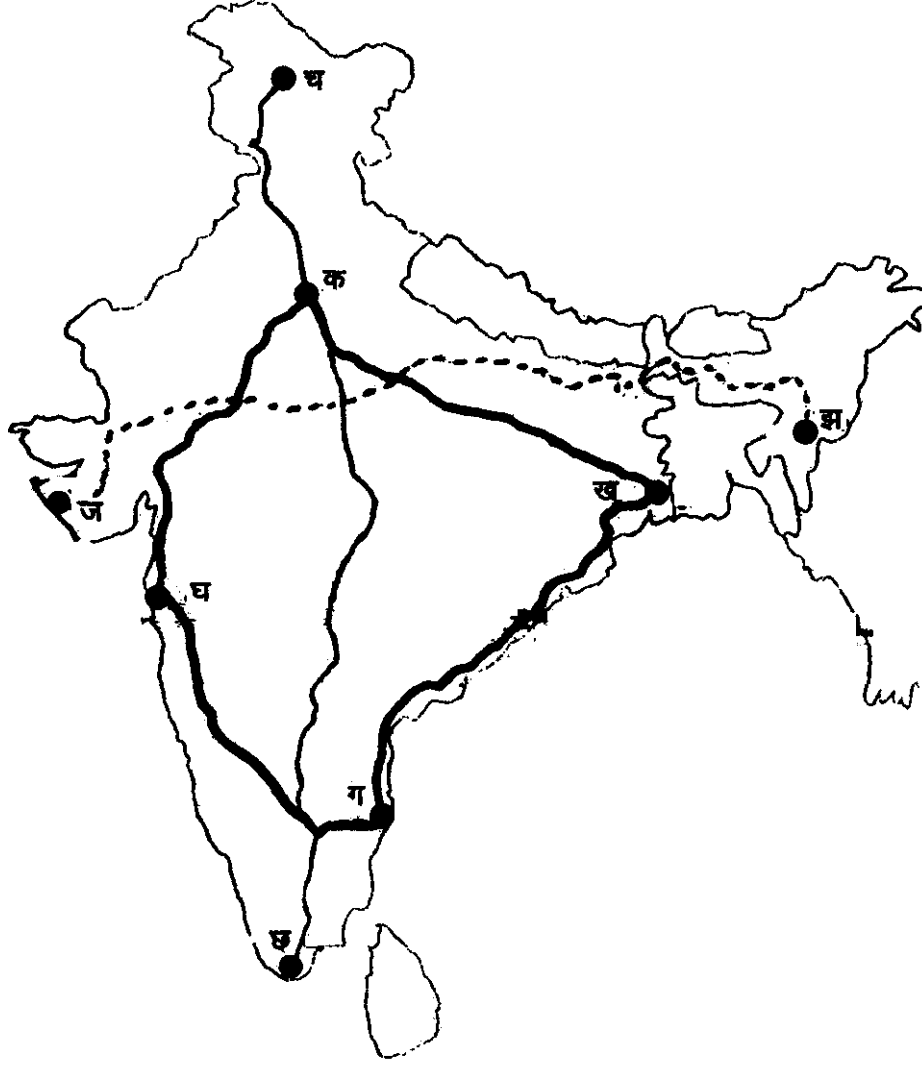
8. Study the map given below, showing national highway development project and answer the questions that follow : 1+1=2



(8.1) Name the expressway national highway that will join A, B, C and D stations.

(8.2) Name the cities related to C and D stations.

नीचे दिए गए मानचित्र का अध्ययन कीजिए जिसमें राष्ट्रीय महामार्ग विकास परियोजना को दिखाया गया है और उसके नीचे दिए गए प्रश्नों के उत्तर दीजिए :



(8.1) उस एक्सप्रेस राष्ट्रीय महामार्ग का नाम बताइए जो क, ख, ग और घ स्थानों को जोड़ेगा।

(8.2) ग और घ स्थानों से सम्बन्धित नगरों के नाम बताइए।

Note : The following question is for **BLIND CANDIDATES** Only in lieu of Q. No. 8 :

नोट : निम्नलिखित प्रश्न केवल **दृष्टिहीन परीक्षार्थियों** के लिए प्रश्न संख्या 8 के स्थान पर है :

- Give two characteristics of North-South Corridor. 2
उत्तर-दक्षिण गलियारे की दो विशेषताएं दीजिए।
9. Define economic and non-economic activities and give one example of each. 2
आर्थिक व आर्थिकेतर क्रियाओं की परिभाषा दीजिए तथा प्रत्येक का एक-एक उदाहरण दीजिए।
10. How does rapid growth of population create unemployment ? Give any two points. 2
तेज़ी से बढ़ती हुई जनसंख्या से बेरोजगारी में कैसे वृद्धि होती है ? कोई दो बिन्दु दीजिए।
11. Explain the term 'poverty.' 2
'गरीबी' की व्याख्या कीजिए।
12. Explain briefly the two approaches by which the number of the poor in the country is estimated. 2
देश में गरीबों की संख्या पता लगाने के लिए अपनाए गए दो तरीकों की संक्षेप में व्याख्या कीजिए।
13. What does 'health' mean ? Explain briefly. 2
'स्वास्थ्य' से क्या अभिप्राय है ? संक्षेप में व्याख्या कीजिए।

14. Define heritage. State its three characteristics. 1+3=4

Or

Describe the types of temples on the basis of their characteristics. 4

विरासत की परिभाषा दीजिए। इसकी तीन विशेषताएँ बताइए।

अथवा

लाक्षणिक विशेषताओं के आधार पर मन्दिरों के प्रकारों का वर्णन कीजिए।

15. It has been a part of our tradition to give human forms or divine status to different forces and objects of nature ? Explain giving four examples. 4

प्रकृति की शक्तियों को मानव रूप अथवा देवी शक्ति के रूप में स्वीकार करना हमारी परंपरा का एक भाग रहा है ? चार उदाहरण देकर व्याख्या कीजिए।

16. How do physiographic and economic factors influence the distribution pattern of Indian railway network ? Explain with suitable examples. 2+2=4

भारतीय रेल जाल के वितरण को भौतिक तथा आर्थिक कारक किस प्रकार प्रभावित करते हैं ? उदाहरण सहित व्याख्या कीजिए।

17. Explain any four causes of poverty. 4

ग़रीबी के कोई से चार कारणों की व्याख्या कीजिए।

18. Describe any four factors which perpetuate gender inequality in India. 4

भारत में लैंगिक असमानता को बनाए रखने वाले चार कारकों का वर्णन कीजिए।

19. "Terrorism poses a serious law and order problem and leads to the disintegration of society." Justify the statement giving four examples. 4

“आतंकवाद कानून और व्यवस्था के लिए एक गम्भीर समस्या प्रस्तुत करता है; जिससे समाज का विघटन होता है।” चार उदाहरण देकर कथन की पुष्टि कीजिए।

20. "Preservation of our heritage is a complex issue." Examine the statement by giving any six examples.

6

“हमारी विरासत को सुरक्षित रखना एक जटिल समस्या है।” कोई छः उदाहरण देकर इस कथन की समीक्षा कीजिए।

21. What is the importance of coal as a source of energy and as a source of raw material ? Describe in brief the distribution of coal in India.

2+2+2=6

कोयले का एक शक्ति के स्रोत तथा कच्चे माल के स्रोत के रूप में क्या महत्त्व है ? भारत में कोयले के वितरण पर संक्षेप में प्रकाश डालिये।

22. How have the technological and institutional reforms been able to improve the condition of Indian agriculture ? Explain with suitable examples.

3+3=6

Or

How is biotechnology beneficial to the farmers ? How is it able to maintain safe and sustainable environment ? Explain with suitable examples.

3+3=6

प्रौद्योगिकी सम्बन्धी तथा संस्थानिक सुधार भारतीय कृषि की दशा सुधारने में किस प्रकार समर्थ रहे हैं ? उपयुक्त उदाहरण सहित व्याख्या कीजिए।

अथवा

जैव प्रौद्योगिकी किसानों के लिए किस प्रकार लाभदायक है ? यह पर्यावरणीय सुरक्षा और उसे सतत पोषणीय बनाए रखने में किस प्रकार सहायक है ? उपयुक्त उदाहरणों सहित व्याख्या कीजिए।

23. Why are jute mills concentrated along the Hugli river ? Explain giving reasons.

6×1=6

जूट मिलें हुगली नदी के किनारे पर क्यों संकेन्द्रित हैं ? किन्हीं छः कारणों की व्याख्या कीजिए।

24. Describe any six features of Indian Economy. 6

Or

Describe any six measures of liberalisation taken by the Government of India. 6

भारतीय अर्थव्यवस्था की छः विशेषताओं का वर्णन कीजिए।

अथवा

भारत सरकार द्वारा उदारीकरण के लिये किये गये छः उपायों की व्याख्या कीजिए।

25. Explain how the public distribution system and administrative price mechanism help in controlling price rise. 6

सार्वजनिक वितरण प्रणाली एवं मूल्य-निर्धारण तन्त्र मूल्य-वृद्धि को नियन्त्रित करने में किस प्रकार सहायता करते हैं ? व्याख्या कीजिए।

26. Examine the provisions incorporated in the Indian Constitution for the protection and development of children. 6

Or

“Corruption is a hindrance in the development of a country.” Explain. 6

भारत के संविधान में बच्चों की सुरक्षा तथा विकास के लिये किये गये प्रावधानों की समीक्षा कीजिए।

अथवा

“भ्रष्टाचार राष्ट्र के विकास में अवरोधक है।” व्याख्या कीजिए।

27. (a) In the given map of India are marked the locations of four cities 1, 2, 3, 4, which are famous for historical monuments like Golden temple, Kamakhya temple, ‘Santhom’ Cathedral and Synagogue.

Write the correct names of any **two** cities on the dotted line given on the map.

1+1=2

(क) दिये गये भारत के मानचित्र पर चार शहरों की स्थिति 1, 2, 3, 4 दर्शाई गई है जो ऐतिहासिक इमारतों के लिये प्रसिद्ध है, जैसे कि स्वर्ण मंदिर, कामाख्या मंदिर, 'सैन्थोम' कैथेड्रल, सिनेगॉग।

इनमें से किन्हीं **दो** शहरों के नाम मानचित्र पर दी गई रेखाओं पर लिखिये।

Note : The following question is only for **BLIND CANDIDATES** in lieu of Q. No. 27 (a) :

Give the name of **two** cities where the following historical buildings are situated:

2

1. The city where Golden Temple is built.
2. City where Kamakhya Temple is situated.
3. City where Santhom Cathedral is established.
4. City where Synagogue is situated.

नोट : निम्नलिखित प्रश्न केवल **दृष्टिहीन परीक्षार्थियों** के लिए प्र. सं. 27 (क) के स्थान पर है :

किन्हीं **दो** शहरों के नाम बताइये जिनमें निम्नलिखित ऐतिहासिक इमारतें स्थित हैं :

1. उस शहर का नाम बताइये जहां पर स्वर्ण मंदिर बनाया गया है।
2. वह शहर जहां पर कामाख्या मंदिर स्थित है।
3. वह शहर जहां पर सैन्थोम कैथेड्रल मन्दिर स्थापित है।
4. वह शहर जहां पर सिनेगॉग स्थित है।

27. (b) On the given outline map of India, locate and label the features given below :

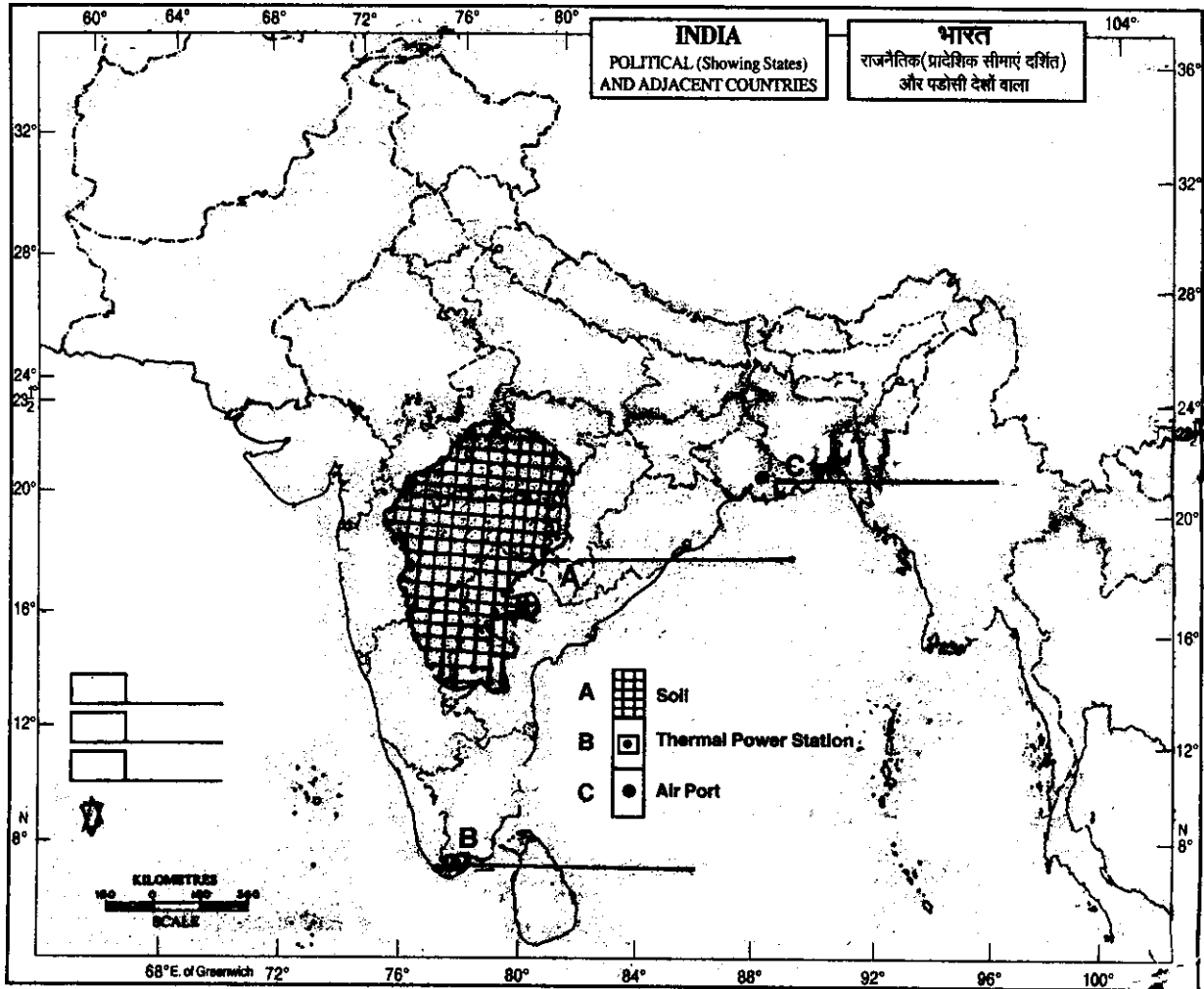
- (i) Mathura Oil Refinery
- (ii) Rawatbhata Nuclear Power Plant
- (iii) Rourkela Iron and Steel Centre

3×1=3

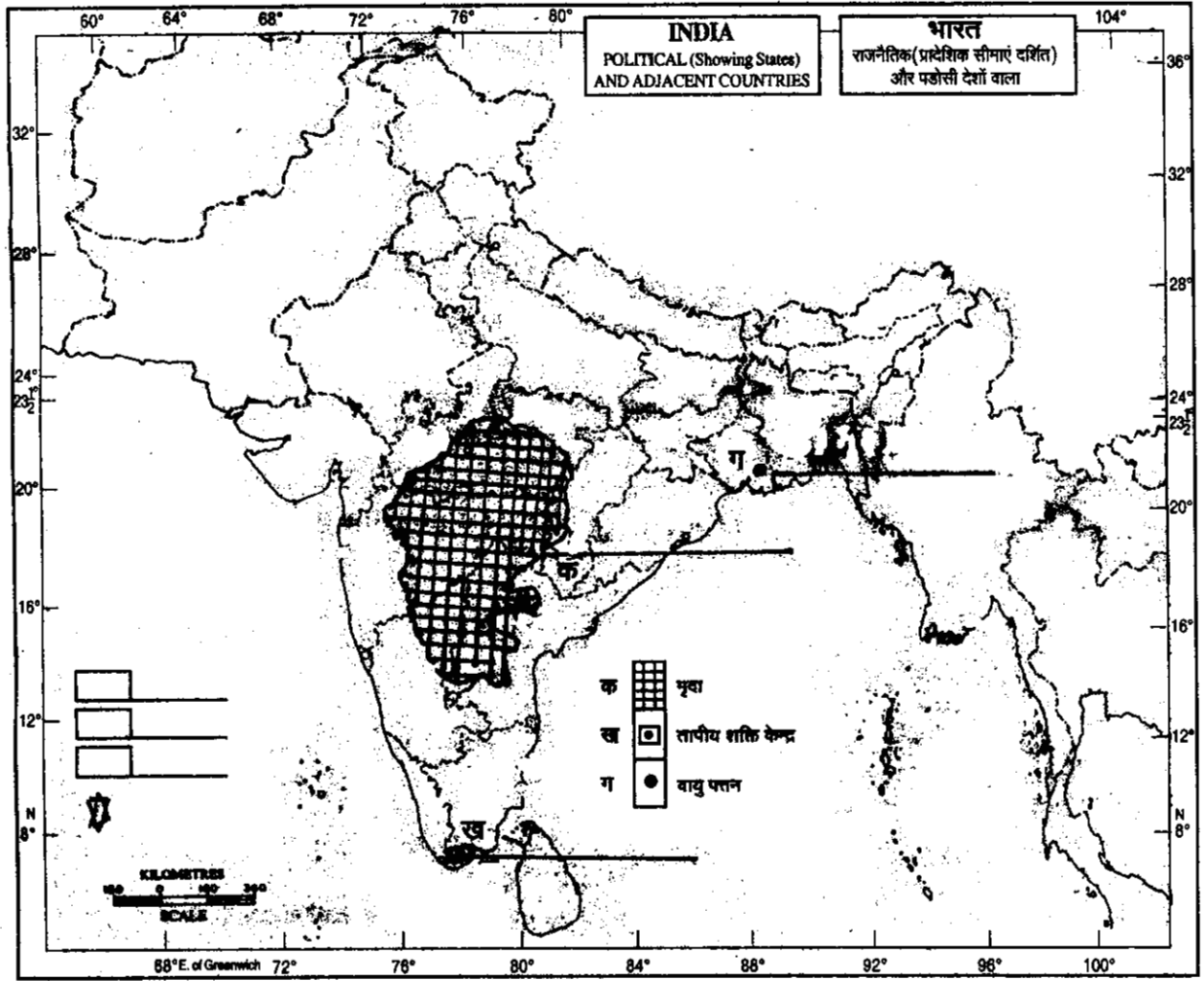
(ख) भारत के दिए गए रेखा-मानचित्र में निम्नलिखित लक्षणों की स्थिति दिखाइए और स्थिति के निकट उनके नाम लिखिए :

- (i) मथुरा तेल परिष्करण शाला
- (ii) रावतभाटा नाभिकीय शक्ति संयंत्र
- (iii) राउरकेला लोहा और इस्पात केन्द्र

(c) Study the map given below and identify the features marked as A, B and C and write their names correctly in the space provided : $3 \times 1 = 3$



(ग) नीचे दिये गए मानचित्र का अध्ययन कीजिए और क, ख और ग द्वारा प्रदर्शित लक्षणों की पहचान कीजिए तथा उनके सही नाम निर्धारित स्थान पर लिखिए :



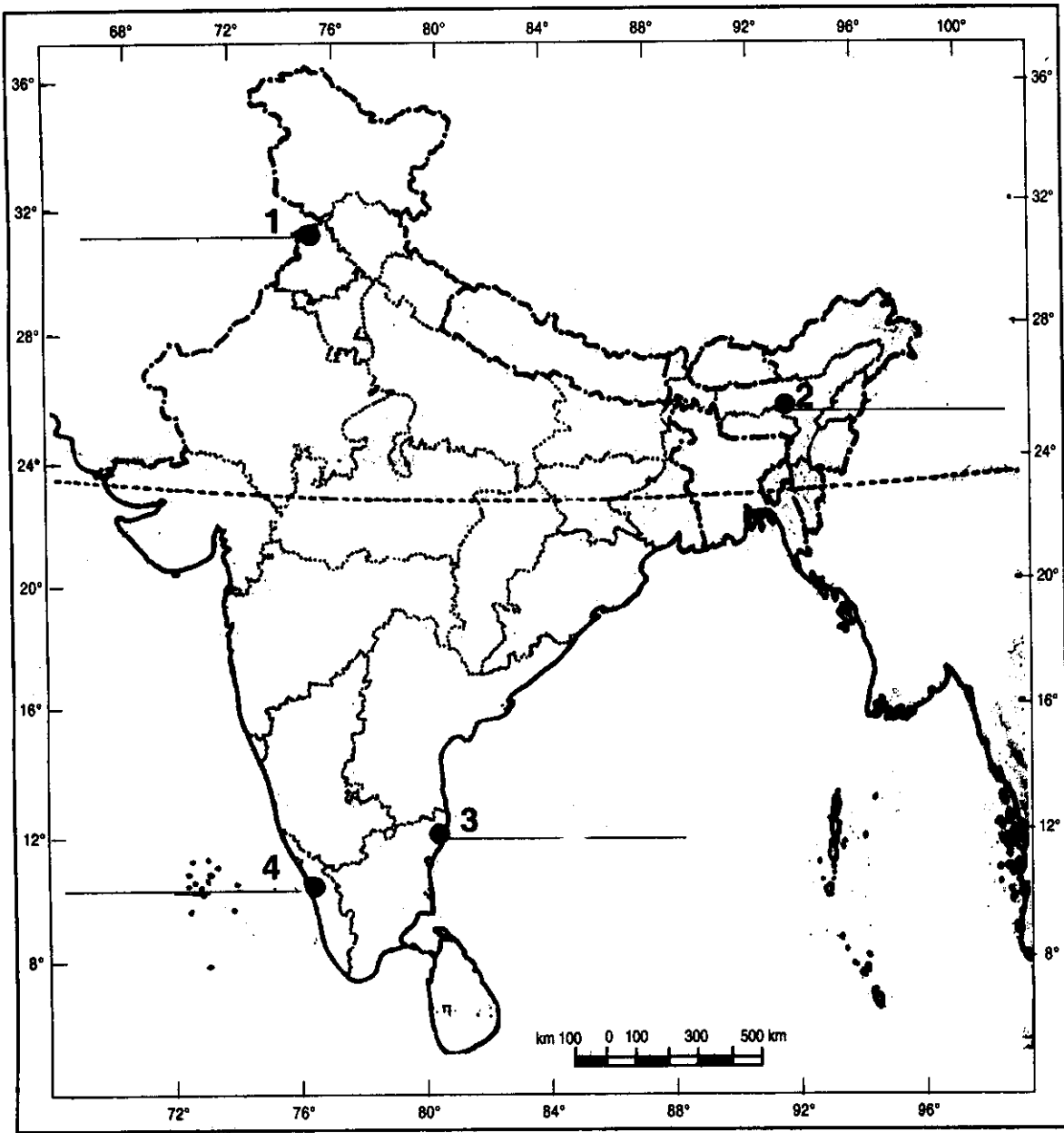
Note: This question is for the **BLIND CANDIDATES** only in lieu of Q. No. 27 'b' and 'c' :

6

- (27.1) Name the oil refineries located in Haryana and Bihar states.
- (27.2) Name the nuclear power plants located in Uttar Pradesh and Karnataka states.
- (27.3) Name the iron and steel plants located in Chhatisgarh and Orissa states.
- (27.4) Name the Software Technology Parks located in Jammu & Kashmir and Kerala states.
- (27.5) Name the two major jute producing states of India.
- (27.6) Name the two major ports located in Gujarat and Andhra Pradesh.

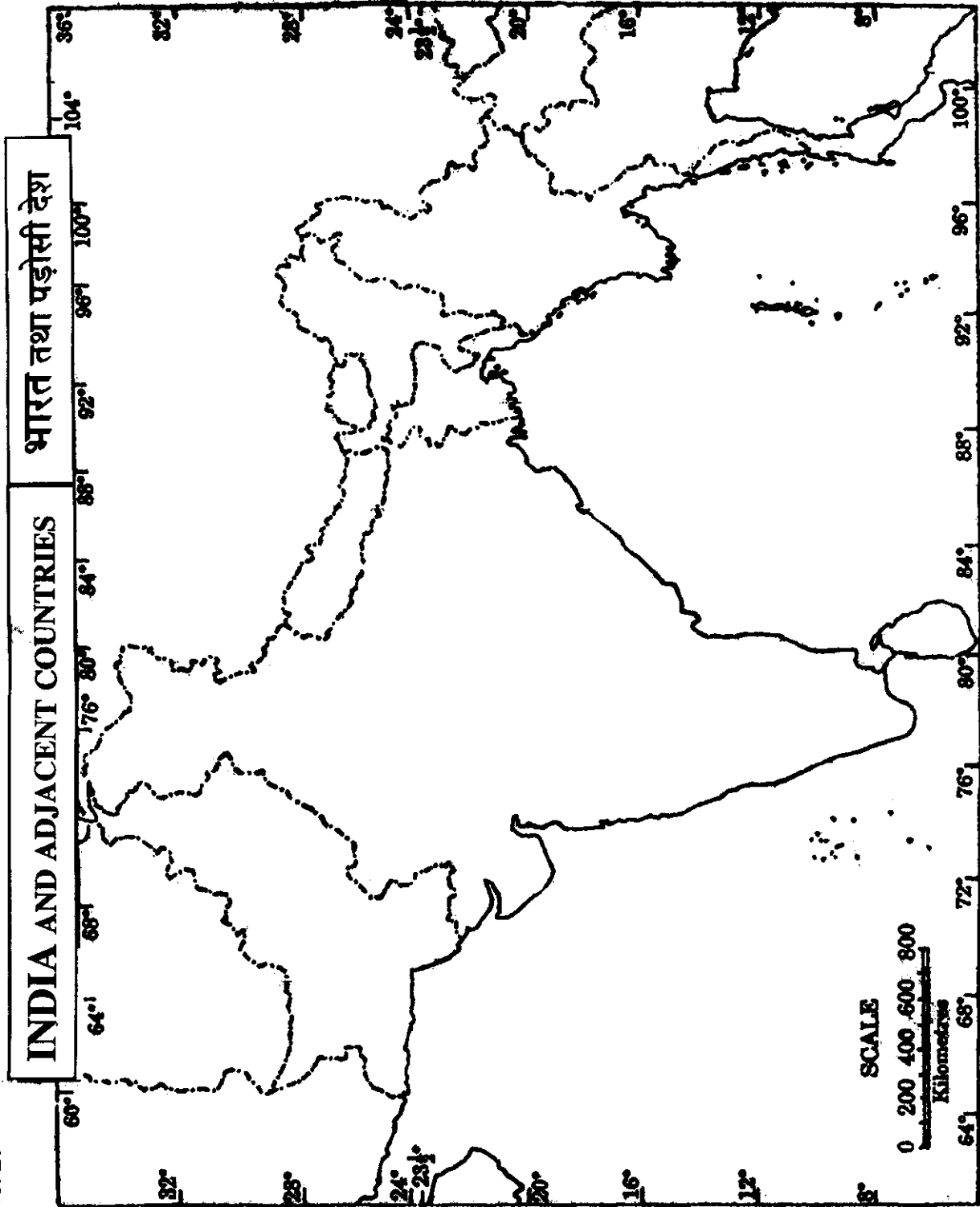
नोट : निम्नलिखित प्रश्न केवल **दृष्टिहीन परीक्षार्थियों** के लिये प्र. सं. 27 'ख' और 'ग' के बदले में है :

- (27.1) हरियाणा और बिहार राज्यों में स्थित तेल-परिष्करण शालाओं के नाम बताइए।
- (27.2) उत्तर प्रदेश तथा कर्नाटक राज्यों में स्थित नाभिकीय शक्ति संयंत्रों के नाम बताइए।
- (27.3) छत्तीसगढ़ और उड़ीसा राज्यों में स्थित लोहा और इस्पात संयंत्रों के नाम बताइए।
- (27.4) जम्मू व कश्मीर तथा केरल राज्यों में स्थित सॉफ्टवेयर प्रौद्योगिकी पार्कों के नाम बताइए।
- (27.5) भारत के दो प्रमुख जूट उत्पादक राज्यों के नाम बताइए।
- (27.6) गुजरात और आन्ध्र प्रदेश में स्थित प्रमुख पत्तनों के नाम बताइए।



Q. No. 27 (a)

Q. No. 27



cbsemath.com

A website providing free sample, guess and question papers in all subjects

[Also available here latest cbse syllabus](#)

[Links to cbse results available](#)