

# cbsemath.com

A website providing free sample, guess and question papers in all subjects

Also available here latest cbse syllabus

Links to cbse results available

Links to online ncert and cbse books available

Maths, science, hindi, punjabi, science and social science material available

Classes V11, V111, 1X, X, X1 and X11

To contact us log on to [cbsemath.com](http://cbsemath.com), open contact us page and fill up the form there

## SOCIAL SCIENCE सामाजिक विज्ञान

Time allowed : 3 Hours

निर्धारित समय : 3 घण्टे

Maximum Marks : 100

अधिकतम अंक : 100

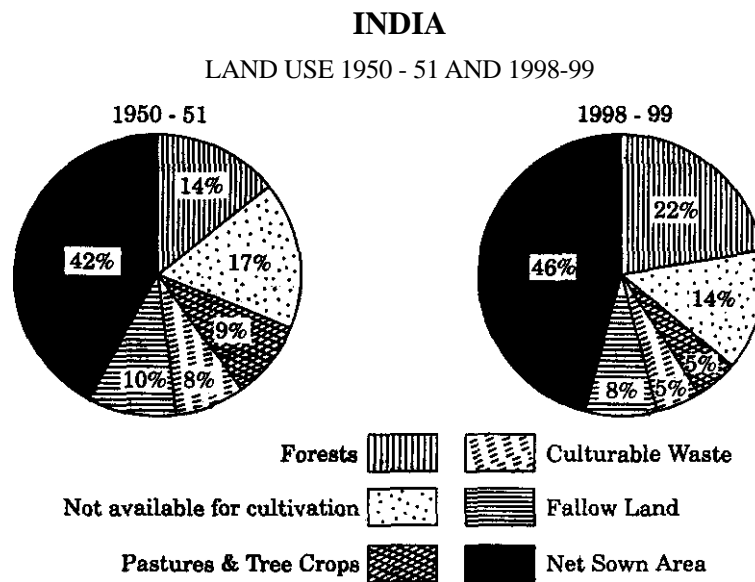
### General Instructions :

1. Answers to questions carrying 2 marks should not exceed 30 words each.
2. Answers to questions carrying 4 marks should not exceed 60-80 words each.
3. Answers to questions carrying 6 marks should not exceed 100-125 words each.
4. Maps should be securely tied in the middle of the Answer-Book.
5. Attempt all parts of a question together.
6. Stencils or templates for drawing outline maps may be used wherever necessary.

### सामान्य निर्देश :

1. 2 अंकों वाले प्रत्येक प्रश्न का उत्तर 30 शब्दों से अधिक न हो।
2. 4 अंकों वाले प्रत्येक प्रश्न का उत्तर 60 से 80 शब्दों से अधिक न हो।
3. 6 अंकों वाले प्रत्येक प्रश्न का उत्तर 100 से 125 शब्दों से अधिक न हो।
4. मानचित्रों को उत्तर-पुस्तिका के बीच में मजबूती से बांधिए।
5. किसी प्रश्न के सभी भागों के उत्तर साथ-साथ दीजिए।
6. जहाँ कहीं आवश्यक हो स्टैंसिलों अथवा सांचों को रेखा-मानचित्र बनाने के लिए इस्तेमाल किया जा सकता है।

1. What is the need of hydraulic structures to harness and conserve water in many parts of our country ? Give two reasons. 2  
हमारे देश के अनेक भागों में पानी को एकत्रित करने एवं संरक्षित करने के लिए जल संरक्षण ढाँचों की आवश्यकता क्यों है ? दो कारण दीजिए।
2. “The diversity of physical environment and climate has made India an ideal habitat for a rich variety of flora and fauna.” Support this statement with two examples. 2  
“भौतिक पर्यावरण और जलवायु की विभिन्नता ने भारत को पेड़-पौधों तथा जीव-जंतुओं के प्रचुर संग्रह के लिए एक आदर्श आवास बना दिया है।” इस कथन की दो उदाहरण देकर पुष्टि कीजिए।
3. What is resource planning ? State any two stages of resource planning. 1+1=2  
संसाधन नियोजन का क्या अर्थ है ? संसाधन नियोजन के किन्हीं दो स्तरों का उल्लेख कीजिए।
4. State four major uses of water. ½×4=2  
जल के चार प्रमुख उपयोग बताइए।
5. What are the two types of metallic minerals ? Give one example of each. 1+1=2  
धात्विक खनिजों के दो प्रकार कौनसे हैं ? प्रत्येक का एक उदाहरण दीजिए।
6. How is climate the most important factor in soil formation ? Explain two reasons. 1×2=2  
मृदा के निर्माण में जलवायु सबसे महत्वपूर्ण कारक किस प्रकार है ? दो कारणों की व्याख्या कीजिए।
7. Name any two north-eastern states of India having over 60 percent of forest cover. Give two reasons. 1+1=2  
भारत के कोई दो उत्तर-पूर्वी राज्यों के नाम बताइए जिनमें 60 प्रतिशत से अधिक वन का आवरण है। दो कारण दीजिए।
8. Compare the diagrams showing land use pattern of India and answer the questions that follow : 1+1=2

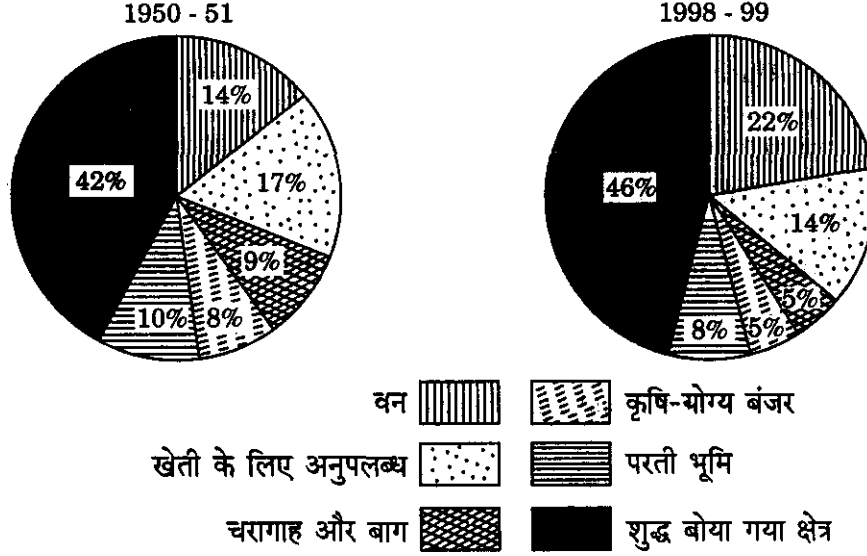


- (8.1) Name the two categories under which the area in use has increased.
- (8.2) Give at least one reason for this increase in these categories.

भारत के भूमि उपयोग प्रतिरूपों को प्रदर्शित करने वाले आरेखों की तुलना कीजिए और उनके नीचे दिए गए प्रश्नों के उत्तर दीजिए :

### भारत

भूमि उपयोग 1950 - 51 और 1998 - 99



(8.1) उन दो वर्गों के नाम बताइए जिनके अन्तर्गत क्षेत्रफल बढ़ा है।

(8.2) इन वर्गों के अन्तर्गत क्षेत्रफल बढ़ने का कम-से-कम एक कारण बताइए।

**Note :** The following question is for the Blind Candidates only in lieu of Q. No. 8.

**नोट :** निम्नलिखित प्रश्न केवल दृष्टिहीन परीक्षार्थियों के लिए प्र. सं. 8 के स्थान पर है।

Why has land under pastures decreased in 1998 - 99 in comparison to 1950 - 51 ? Give two reasons.

1950-51 की तुलना में 1998-99 में चरागाह भूमि कम क्यों हुई है ? दो कारण दीजिए।

9. Mention two main causes of price rise in India. 2

भारत में मूल्य वृद्धि के दो मुख्य कारणों का उल्लेख कीजिए।

10. Explain two characteristics of capitalist or free market economy. 2

पूँजीवादी अथवा मुक्त बाज़ार अर्थव्यवस्था की दो विशेषताओं की व्याख्या कीजिए।

11. Mention any two steps taken to remove the social inequalities among the citizens belonging to weaker sections. 2

कमज़ोर वर्गों के नागरिकों की सामाजिक असमानताओं को दूर करने के लिए अपनाए गए कोई दो उपायों का उल्लेख कीजिए।

12. Explain two characteristics of terrorism. 2  
आतंकवाद की दो विशेषताओं की व्याख्या कीजिए।

13. Explain two principles of Panchsheel as agreed to by China and India in 1954. 2  
1954 में हुए भारत और चीन के समझौते के अनुसार पंचशील के दो सिद्धान्तों की व्याख्या कीजिए।

14. What is a stupa ? During which period were most of these erected ? Mention any two famous stupas with one characteristic of each. 1+1+2=4  
स्तूप क्या है ? इनमें से अधिकांश किस काल में बनाए गए थे ? किन्हीं दो प्रसिद्ध स्तूपों का एक-एक विशेषता सहित उल्लेख कीजिए।

15. How is the richness of our musical heritage reflected in our folk music ? Give three examples. 1+3=4

**OR**

Differentiate between natural and cultural heritage. Explain two categories of cultural heritage. 2+2=4

हमारे संगीत की समृद्ध विरासत हमारे लोक संगीत में किस प्रकार प्रतिबिम्बित होती है ? तीन उदाहरण दीजिए।

**अथवा**

प्राकृतिक व सांस्कृतिक विरासत का अन्तर स्पष्ट कीजिए। सांस्कृतिक विरासत के दो वर्गों की व्याख्या कीजिए।

16. Why is conservation of minerals essential ? Explain any three methods of conservation of minerals. 1+3=4  
खनिजों का संरक्षण क्यों आवश्यक है ? खनिजों के संरक्षण की किन्हीं तीन विधियों की व्याख्या कीजिए।

17. What is poverty ? Describe briefly any two poverty alleviation programmes. 1+3=4  
गरीबी क्या है ? किन्हीं दो गरीबी उन्मूलन कार्यक्रमों का संक्षेप में वर्णन कीजिए।

18. Explain structural and cyclical unemployment. Give one example of each. 2+2=4  
संरचनात्मक तथा चक्रीय बेरोजगारी की व्याख्या कीजिए। दोनों का एक-एक उदाहरण दीजिए।

19. "Planning in India derives its objectives and social premises from Directive Principles of State Policy." Justify the statement. 4  
"भारत में नियोजन के उद्देश्य तथा सामाजिक भूमिका के आधार राज्य के नीति निर्देशक सिद्धान्तों से लिए गए हैं।" कथन की पुष्टि कीजिए।

20. Explain four measures taken for the protection of our natural heritage. 6  
हमारी प्राकृतिक विरासत के संरक्षण के लिए अपनाए गए चार उपायों की व्याख्या कीजिए।

21. "Indian road transportation is confronted with problems." Describe any six problems. 1×6=6  
"भारतीय सड़क परिवहन समस्याओं से ग्रसित है।" किन्हीं छः समस्याओं का वर्णन कीजिए।

22. Explain any six features of subsistence farming. 1×6=6

**OR**

Why has Indian agriculture started a declining trend in food production ? How can we overcome this problem ? 3+3=6

जीविका खेती के किन्हीं छः लक्षणों की व्याख्या कीजिए।

**अथवा**

भारतीय कृषि ने खाद्य उत्पादन में घटती प्रवृत्ति क्यों प्रारम्भ कर दी है ? इस समस्या का हम किस प्रकार हल कर सकते हैं ?

23. Why is the iron and steel industry mainly located in north-eastern parts of the Indian Peninsula ? Explain any six reasons. 1×6=6

लोहा व इस्पात उद्योग मुख्यतः भारतीय प्रायद्वीप के उत्तर-पूर्वी भागों में क्यों स्थित है ? किन्हीं छः कारणों की व्याख्या कीजिए।

24. Describe positive aspects of the strategy of India's economic development before 1991. 6

**OR**

Give the meaning of globalisation and describe the steps taken in this direction.

1991 से पूर्व भारत के आर्थिक विकास की योजना के सकारात्मक पक्षों का वर्णन कीजिए।

**अथवा**

वैश्वीकरण का अर्थ बताइए तथा इस दिशा में किए गए प्रयासों का वर्णन कीजिए।

25. Explain how the Public Distribution System and fiscal measures help in controlling price rise. 6

सार्वजनिक वितरण प्रणाली एवं राजकोषीय उपायों द्वारा मूल्य वृद्धि नियंत्रण की व्याख्या कीजिए।

26. Explain the role of health in human development and also explain the steps taken in this direction by the Government of India. 6

**OR**

Explain the main provisions of the 'Persons with Disability Act, 1995'.

मानव विकास में स्वास्थ्य की भूमिका की तथा इस दिशा में भारत सरकार द्वारा किए गए प्रयासों की भी व्याख्या कीजिए।

**अथवा**

'विकलांग व्यक्ति अधिनियम, 1995' के मुख्य प्रावधानों की व्याख्या कीजिए।

27. (a) Identify and label any *two* of the four places marked 1, 2, 3, 4 on the outline map of **India** given on Page 9 : 2
- (i) The city where Qutub Minar is situated.
  - (ii) The place where the most famous stupa is built.
  - (iii) The place where Golden Temple is located.
  - (iv) The city of Tipu Sultan's Palace.
- (b) On the outline map of **India** given on Page 9 locate and label the features given below : 3
- (i) Haldia Oil Refinery
  - (ii) Narora Nuclear Power Plant
  - (iii) Salem Iron and Steel Centre
- (c) Study the map of **India** given on Page 11 and identify the features marked A, B and C and write their names correctly in the space provided. 3
- (क) पृष्ठ 9 पर दिए गए **भारत** के रेखा-मानचित्र पर 1, 2, 3, 4 द्वारा अंकित चार में से किन्हीं **दो** स्थानों को पहचानिए और नामांकित कीजिए :
- (i) वह नगर जहाँ कुतुब मीनार स्थित है।
  - (ii) वह स्थान जहाँ सर्वाधिक प्रसिद्ध स्तूप बना है।
  - (iii) वह स्थान जहाँ पर स्वर्ण मंदिर स्थित है।
  - (iv) वह नगर जहाँ टीपू सुल्तान का महल है।
- (ख) पृष्ठ 9 पर दिए गए **भारत** के रेखा-मानचित्र में नीचे दिए लक्षणों की स्थिति दिखाइए और स्थिति के निकट उनके नाम लिखिए :
- (i) हल्दिया तेल परिष्करणशाला
  - (ii) नरोरा नाभिकीय शक्ति संयंत्र
  - (iii) सेलम लोहा और इस्पात केन्द्र
- (ग) पृष्ठ 11 पर दिए गए **भारत** के रेखा-मानचित्र का अध्ययन कीजिए और क, ख एवं ग द्वारा प्रदर्शित लक्षणों की पहचान कीजिए तथा उनके सही नाम निर्धारित स्थान पर लिखिए।

**Note :** The following question is for the Blind Candidates only in lieu of Q. No. 27 (a), (b) and (c).

**नोट :** निम्नलिखित प्रश्न केवल दृष्टिहीन परीक्षार्थियों के लिए प्रश्न संख्या 27 (क), (ख) और (ग) के स्थान पर है।

- |        |   |   |
|--------|---|---|
| (27.1) | Name the two rivers which are represented and worshipped in human forms in temples.           | 2 |
| (27.2) | Name the oil refineries located in Uttar Pradesh and Kerala.                                  | 1 |
| (27.3) | Name the nuclear power stations located in Gujarat and Tamil Nadu.                            | 1 |
| (27.4) | Name the two iron and steel plants located in Karnataka.                                      | 1 |
| (27.5) | Name the Software Technology Parks located in Uttar Pradesh and Orissa.                       | 1 |
| (27.6) | Name the two leading sugarcane producing states of India.                                     | 1 |
| (27.7) | Name the two major ports located in Tamil Nadu.   | 1 |
| (27.1) | ऐसी दो नदियों के नाम बताइए जिन्हें मन्दिरों में मानव आकृतियों के रूप में रखा और पूजा जाता है। |   |
| (27.2) | उत्तर प्रदेश और केरल में स्थित तेल परिष्करणशालाओं के नाम बताइए।                               |   |
| (27.3) | गुजरात और तमिल नाडु में स्थित नाभिकीय शक्ति संयंत्रों के नाम बताइए।                           |   |
| (27.4) | कर्नाटक में स्थित दो लोहा और इस्पात संयंत्रों के नाम बताइए।                                   |   |
| (27.5) | उत्तर प्रदेश और उड़ीसा में स्थित सॉफ्टवेयर प्रौद्योगिकी पार्कों के नाम बताइए।                 |   |
| (27.6) | भारत के दो अग्रणी गन्ना उत्पादक राज्यों के नाम बताइए।   |   |
| (27.7) | तमिल नाडु में स्थित दो प्रमुख पत्तनों के नाम बताइए।   |   |

For question no. 27 (a) and 27 (b)

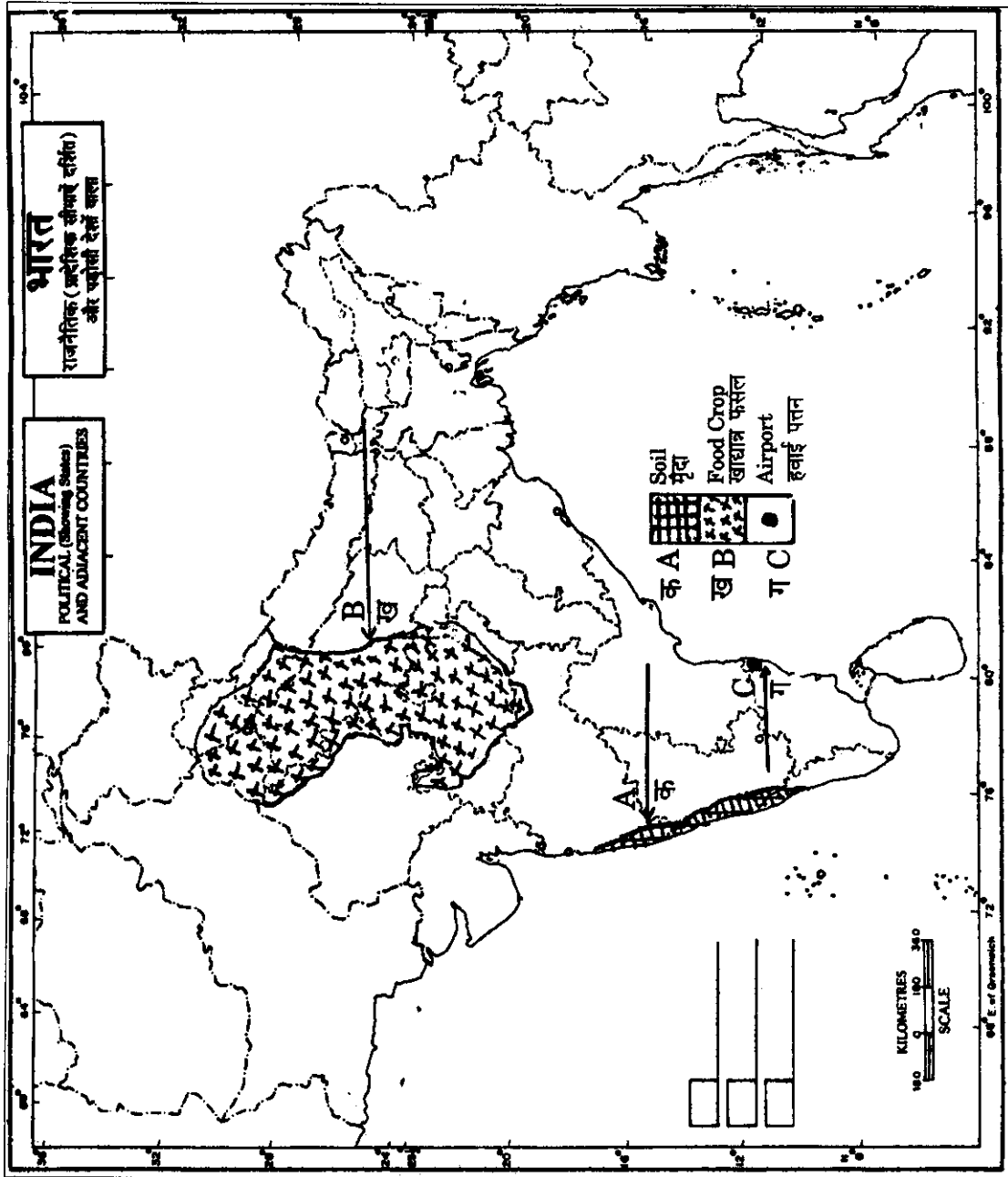
प्रश्न सं. 27 (क) और 27 (ख) के लिए





For question no. 27 (c)

प्रश्न सं. 27 (ग) के लिए



[cbsemath.com](http://cbsemath.com)

A website providing free sample, guess and question papers in all subjects

[Also available here latest cbse syllabus](#)

[Links to cbse results available](#)

[Links to online ncert and cbse books available](#)